

بسمه تعالی

معلم: خاتم رشوند

دبستان غیردولتی محراب

نام و نام خانوادگی:

ارزشیابی ریاضی

پایه دوم

۱. در یک جعبه مداد، ۶ مداد سبز و ۳ مداد قرمز است.

۵۰ مداد از مداد سبز است

۵۰ مداد قرمز است

۲. جاهای خالی را پر کن



تا تا بی می شود



تا تا بی می شود

۳. نمودار ستونی ساعت انجام تکالیف خود را در یک هفته با رنگ کردن یک مستطیل کامل کن. (برای هر ساعت یک مستطیل)

✗ در کدام روز بیشترین فعالیت درس را داشته اید؟

✗ در کدام روز کمترین فعالیت درسی را داشته اید؟

✗ آیا روزهای هم اندازه داشته اید؟



۴ اعداد را در هر مربع مخصوص به خود بنویس.

۱۴ - ۱۷ - ۳ - ۱۵ - ۲۶ - ۳۳ - ۵۰ - ۱۹ - ۲۹ - ۱۱


فرد

زوج

۵. دو عدد یک رقمی زوج بنویس.

سه عدد دو رقمی فرد بنویس.

۶. با توجه به نمودار جواب بده.



۳۳ کدام گل از همه بیشتر کاشته شده است؟

۳۴ کدام گل از همه کمتر کاشته شده است؟

۳۵ کدام گل های به اندازه ی هم کاشته شده اند؟

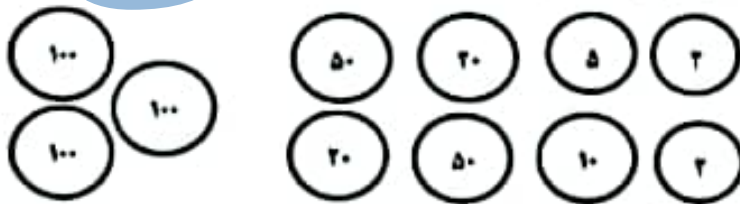
۷. الگو را ادامه بده.

۲۲۲ - ۲۲۴ - ۲۲۶ -

۸۲۳ - ۸۲۵ - ۸۲۷ -

۸. به مناسبت عید کوجه را با ۱۹۶ لامپ زرد و قرمز جرافتی کرده اند. اگر ۵۶ لامپ قرمز باشد چند لامپ زرد است؟

۹. بیتا می خواهد یک کتاب ۲۷۹ ریالی بخرد. مبلغ کتاب را از میان پول ها جدا کن.



۱۰. قد زهرا ۱۵۲ سانتی مترو قد مینا ۱۴۹ سانتی متر است. قد کدام یک بلندتر است؟ چند سانتی متر؟

الف) قد مینا - ۳ سانتی متر

ب) قد زهرا - ۳ سانتی متر

ج) قد مینا - ۵ سانتی متر

۱۱. عددها را به صورت نمونه بنویس.

۲۵۲ = ۲۰۰ + ۵۰ + ۲

۶۹۸ = _____

۵۰۷ = _____

۹۷۰ = _____

نام و نام خانوادگی:

بسمه تعالی
دبستان غیردولتی محراب

معلم: خاتم رشوند

پایه دوم

ارزشیابی ریاضی

۱. در یک جعبه مداد، ۶ مداد سبز و ۳ مداد قرمز است.

۵. $\frac{۶}{۱۱}$ مداد از $\frac{۱۱}{۱۱}$ مداد سبز است

۵. $\frac{۳}{۱۲}$ مداد $\frac{۱۲}{۱۲}$ مداد قرمز است.

۲. جاهای خالی را پر کن.



$\frac{۱۵}{۱۵}$ تا $\frac{۳}{۳}$ تایی می شود $\frac{۱۵}{۱۵}$



$\frac{۲}{۴}$ تا $\frac{۴}{۴}$ تایی می شود $\frac{۸}{۸}$

۳. نمودار ستونی ساعت انجام تکالیف خود را در یک هفته با رنگ کردن یک مستطیل کامل کن. (برای هر ساعت یک مستطیل) هر دایره آموز

- با توجه به اطلاعات آموزش کامل کن
- ✗ در کدام روز بیشترین فعالیت درسی را داشته اید؟
- ✗ در کدام روز کمترین فعالیت درسی را داشته اید؟
- ✗ آیا روزهای هم اندازه داشته اید؟



۴. اعداد را در هر مربع مخصوص به خود بنویس.


۱۴ - ۱۷ - ۳ - ۱۵ - ۲۶ - ۲۳ - ۵۰ - ۱۹ - ۴۹ - ۱۱

فرد ۱۷ - ۳ - ۱۵ - ۲۳ - ۱۹
۴۹ - ۱۱

زوج ۱۴ - ۲۶ - ۵۰

۵. دو عدد یک رقمی زوج بنویس $\underline{\quad\quad}$ $\underline{\quad\quad}$
سه عدد دو رقمی فرد بنویس $\underline{۲۲}$ $\underline{۵۹}$ $\underline{۹۴}$

۶. با توجه به نمودار جواب بده



دخ کدام گل از همه بیشتر کاشته شده است؟ گل نارنجی
دخ کدام گل از همه کمتر کاشته شده است؟ گل سفید
دخ کدام گل های به اندازه ی هم کاشته شده اند؟ گل بنفشه و گل بنفشه

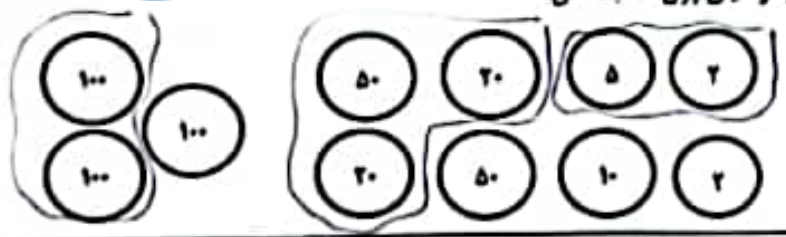
۷. الگو را ادامه بده

۲۳۲ - ۲۳۴ - ۲۳۶ - ۲۳۸ - ۲۴۰ - ۲۴۲ - ۲۴۴
۸۴۲ - ۸۴۵ - ۸۴۷ - ۸۴۹ - ۸۵۱ - ۸۵۳ - ۸۵۵

۸. به مناسبت عید کبچیه را با ۱۹۲ لامپ زرد و قرمز چراغانی کرده اند اگر ۵۶ لامپ قرمز باشد چند لامپ زرد است؟
۱۳۸ لامپ زرد است.

$$\begin{array}{r} ۱۹۲ \\ - ۵۶ \\ \hline ۱۳۸ \end{array}$$

۹. بیتا می خواهد یک کتاب ۲۲۹ ریالی بخرد مبلغ کتاب را از میان پول ها جدا کن.



۱۰. قد زهرا ۱۵۲ سانتی مترو قد مینا ۱۴۹ سانتی متر استم قد کدام یک بلندتر است؟ زهرا چند سانتی متر؟ ۳ سانتی متر

$$\begin{array}{r} ۱۵۲ \\ - ۱۴۹ \\ \hline ۳ \end{array}$$

- (الف) قد مینا - ۳ سانتی متر
(ب) قد زهرا - ۳ سانتی متر
(ج) قد زهرا - ۲ سانتی متر
(د) قد مینا - ۵ سانتی متر

۱۱. عددها را به صورت نمونه بنویس

$۲۵۲ = ۲۰۰ + ۵۰ + ۲$ $۶۹۸ = \underline{۶۰۰ + ۹۰ + ۸}$
 $۵۰۲ = \underline{۵۰۰ + ۲}$ $۱۷۰ = \underline{۹۰۰ + ۷۰}$